

Mesopotamia Unidad 1

Seccion 1

Vocabulario

Seco

Mesopotamia

Inundaciones

Sumerios

Creciente Fértil

Llanura aluvial

Irrigación

Tigris

Eufrates

Ubicado

Rio Tributario

Ziggurats

Sacerdote-Rey

Cuneiform

Puntos Añadidos

Page #	Tús Puntos	Puntos Totales
1		45
2		15
3		15
4		15
5		15
6		15
7		15
8		15
9		15
10		10
11		20
		200



	/8 =	
--	------	--

Actividades con el vocabulario

La Mezcla

- itisrg _____
- taigzgrus _____
- diunicanneso _____
- ngriiricaó _____
- psoeoammita _____
- iro rrbtioaui _____
- ecso _____
- ruafetse _____
- naalurl luavial _____
- buadico _____
- usemirso _____
- sdceateor-ery _____
- nfioecrum _____
- eccrietne éftirl _____

Hazlo Completo

- __fr__es
- __c_e__ __til
- lr____ón
- _b_c__
- __u_a__v_al
- ____os
- M____a
- ____ac____
- _____
- _____
- __r_b_t_r_o

- Tigris _____
- Creciente Fértil _____
- Llanura aluvial _____
- Inundaciones _____
- Irrigación _____
- Sumerios _____
- Mesopotamia _____
- Eufrates _____
- Seco _____
- Ubicado _____
- Rio Tributario _____
- Ziggurats _____
- Sacerdote - Rey _____
- Cuneiform _____

Hazlo en inglés

/45

Cuenta los errores
Sé que hay más que treinta

Introducción a Símbolos

Sección 1

Definir en tus propias palabras (Si hay esfuerzo no hay respuesta incorrecta)
(Si no sabes nada, escriba suena como ...) ((¡HAZLO RÁPIDO!))

Seco _____

Mesopotamia _____

Inundaciones _____

Sumerios _____

Creciente Fértil _____

Llanura aluvial _____

Irrigación _____

Tigris _____

Eufrates _____

Ubicado _____

Rio Tributario _____

Ziggurats _____

Sacerdote-Rey _____

Cuneiform _____

/15

Cuenta los errores o si lo dejó
blanco.

Sé que hay más que treinta

Introducción a Símbolos

Sección 1

Defina en las palabras del maestro o el libro

Seco _____

Mesopotamia _____

Inundaciones _____

Sumerios _____

Creciente Fértil _____

Llanura aluvial _____

Irrigación _____

Tigris _____

Eufrates _____

Ubicado _____

Rio Tributario _____

Ziggurats _____

Sacerdote-Rey _____



/15

Cuneiform _____

Cuenta los errores o si lo dejó blanco
Sé que hay más que treinta

Dibuja línea entre los representaciones gráficas

Seco
Mesopotamia
Inundaciones
Sumerios
Creciente Fértil
Llanura aluvial
Irrigación
Tigris
Eufrates
Ubicación
Rio Tributario
Ziggurats
Sacerdote-Rey
Cuneiform



/15

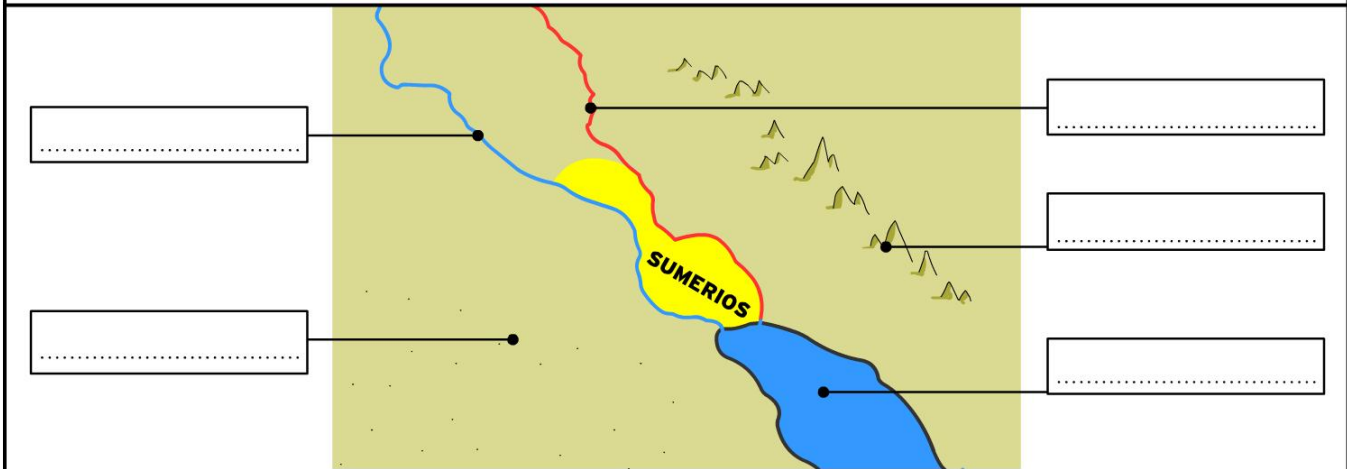
Nombre:

Fecha: 14, agosto, 2019

SUMERIOS

GEOGRAFÍA

Escribe el nombre de los dos ríos, el cuerpo de agua, las montañas y el desierto que rodean a Sumeria.



EJEMPLOS:

Nombra algunos ejemplos de cosas que inventaron los sumerios:

.....
.....

COMPLETA LA ORACIÓN:

1. La región en la que los sumerios vivían se llamaba
2. La, a través de un sistema de canales y, permitió que los sumerios controlaran las inundaciones y diversificaran los riegos.
3. Ya que encontraron la manera de la civilización sumeria se expandió y formó las
4. La civilización sumeria duró de a.E.C. a a.E.C.

4 Stack match

/15

Uno de las primeras civilizaciones del mundo se llama _____ significa "_____ los dos _____". El clima es caluroso y _____. El área tiene dos ríos grandes que se llaman _____ y _____ y se conoce como _____.

Forma un arco desde el mar Mediterráneo hasta el Mar _____.

Con sus planicies aluviales es una _____ ideal para los inicios de la _____.

El nacimiento de los dos ríos grandes se halla en la montañas de _____.

Los ríos fluyen a través de Siria, Irak, y _____ en el _____ Pérsico.

/15

Los rios Eufrates y Tigris son diferentes. El río Eufrates son 600 millas menos del rio _____. Después de salir de _____, el Eufrates _____ hasta el sureste. A Través de Siria y _____ Iraq. En su recorrido, el flujo del río se hace más _____. Cuando el Eufrates cruza el desierto pierde mucha _____ por _____.

El Tigris lleva más _____ que el _____. Igual que Eufrates El Tigris fluye sureste a través de Iraq. Las _____ pueden ser muy destructivas. Igual que destructivas las inundaciones ha permitido el _____ de la _____ a orillas de los ríos.

/10

La tierra entre los ríos es una _____, que es una área de tierra plana ubicada a un arroyo o río que se _____. Las inundaciones depositan _____, particulares finas de suelo, a lo largo de las márgenes de los _____. El limo hace que el suelo sea _____.

La _____ es un método de transporta agua por medio de canales chiquitos y grandes a lugares ubicada muy lejos de los _____.

Antes las inundaciones inundaron a la ciudad de _____ pero ahora hay _____ para controlar la agua.

/10

Según el mapa, ¿en qué lugar se unen los ríos Tigris y Eufrates? ¿Donde se encuentra la desembocadura de estos ríos?

¿De qué manera la inundación de los ríos tigris y eufrates has sido al mismo tiempo productiva y destructiva? Haz una tabla como la siguiente para responder la pregunta.

/20

